

Uhrzeit ablesen 5 Minuten

Verbinde die analoge Uhr mit der Uhrzeit in Worten.



•

• fünf nach halb •

• zwölf



•

• fünf vor halb •

• vier



•

• fünf vor •

• sechs





•


• fünf nach •


• zehn


Schreibe die Uhrzeit mit Worten auf.


| | | | | |
|---|---|--|--|--|
|  | <table border="1"><tr><td> </td></tr><tr><td> </td></tr><tr><td> </td></tr></table> | | | |
| | | | | |
| | | | | |
| | | | | |

| | | | | |
|---|---|--|--|--|
|  | <table border="1"><tr><td> </td></tr><tr><td> </td></tr><tr><td> </td></tr></table> | | | |
| | | | | |
| | | | | |
| | | | | |

| | | | | |
|--|---|--|--|--|
|  | <table border="1"><tr><td> </td></tr><tr><td> </td></tr><tr><td> </td></tr></table> | | | |
| | | | | |
| | | | | |
| | | | | |

| | | | | |
|---|---|--|--|--|
|  | <table border="1"><tr><td> </td></tr><tr><td> </td></tr><tr><td> </td></tr></table> | | | |
| | | | | |
| | | | | |
| | | | | |

| | | | | |
|---|---|--|--|--|
|  | <table border="1"><tr><td> </td></tr><tr><td> </td></tr><tr><td> </td></tr></table> | | | |
| | | | | |
| | | | | |
| | | | | |

| | | | | |
|---|---|--|--|--|
|  | <table border="1"><tr><td> </td></tr><tr><td> </td></tr><tr><td> </td></tr></table> | | | |
| | | | | |
| | | | | |
| | | | | |